




Opgave fra Benjamin 2017

Emilie brettet et papir, brukte en hullmaskin og laget kun ett hull i papiret. Deretter brettet hun ut papiret slik bildet viser.



Hvilket av bildene viser linjene papiret ble brettet etter?

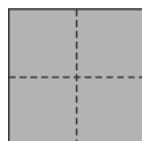
(A)



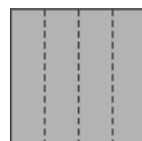
(B)



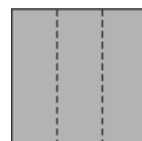
(C)



(D)



(E)



Utvidelse av oppgaven

Tenk deg at du bretter et kvadratisk papir etter de prikkede linjene, og så lager du ett hull. Hvordan vil det se ut når du bretter papiret ut igjen?

Prøv å tegne det:

