



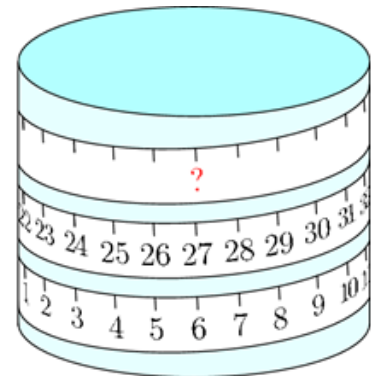
Hopp videre med

KENGURU

- en videre utforsking av oppgaver fra Kengurukonkurransen

Et målebånd er limt rundt et sylinder.

Hvilket tall skal stå på spørsmålstegnet sin plass?



A 33

B 42

C 48

D 53

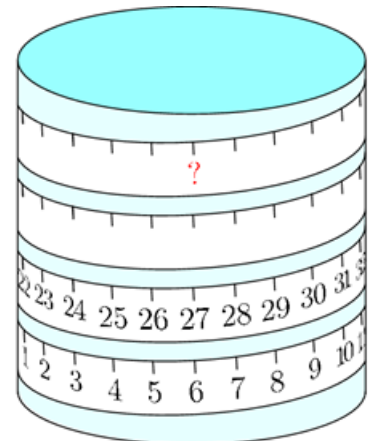
E 69

Ecolier 2021, oppgave 7
Benjamin 2021, oppgave 6

Oppgave 1)

Et målebånd er limt rundt et sylinder slik bildet viser.

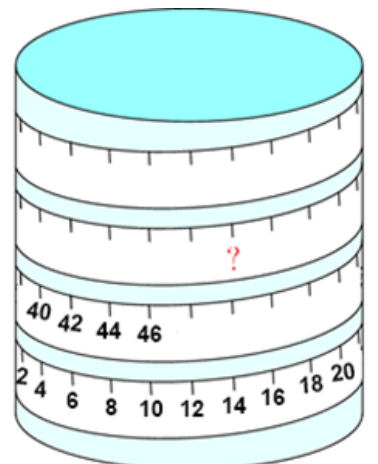
Hvilket tall skal stå på plassen til spørsmålstegnet?



Oppgave 2)

Et målebånd er limt rundt et sylinder slik bildet viser.

Hvilket tall skal stå på plassen til spørsmålstegnet?

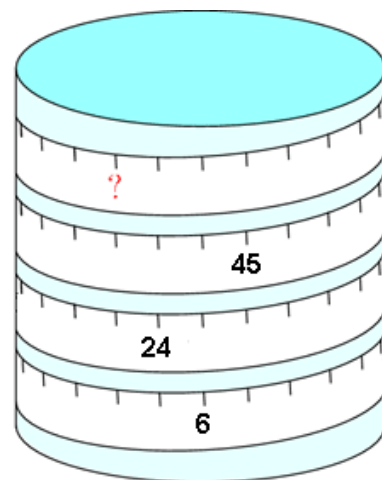




Oppgave 3)

Et målebånd er limt rundt et sylinder slik bildet viser.

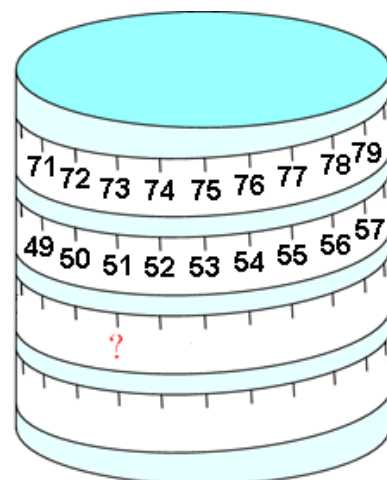
Hvilket tall skal stå på plassen til spørsmålsteget?



Oppgave 4)

Et målebånd er limt rundt et sylinder slik bildet viser.

Hvilket tall skal stå på plassen til spørsmålsteget?



Oppgave 5)

Lag dine egne oppgaver.

