

### 1


Jonas lager par av sokkene.  
Hvor mange par kan han lage?

- (A) 3      (B) 4      (C) 5      (D) 6      (E) 8




### 2

Vi koster 6 kroner  
til sammen.




- (A) 5      (B) 6      (C) 7      (D) 8      (E) 9

Vi koster 8 kroner  
til sammen.



Hva koster vi  
til sammen?



### 3

Maya-folket i Sør-Amerika skrev tall på en annen måte enn det vi gjør.

Tallet 1 ble skrevet med symbolet ●

Tallet 5 ble skrevet med symbolet █████

Hvordan ble tallet 17 skrevet?

(A)



(B)




(C)



(D)



(E)



### 4


Det står 12 barn i en kø. Mina står på syvende plass forfra.  
Kine står nest bakerst i køen.










Hvor mange barn står mellom Mina og Kine i køen?

- (A) 2      (B) 3      (C) 4      (D) 5      (E) 6

### 5

Hver figur står for et tall. Like figurer står for samme tall.  
Summen av de tre tallene i hver står til høyre.

Hvilket tall står  for?

			15
			12
			16

### 6

På gården er det 15 dyr. Det er hester, katter og kaniner.  
Vi vet at 10 av dem ikke er hester og at 8 av dem ikke er katter.

Hvor mange kaniner det på gården?

- (A) 2      (B) 3      (C) 4      (D) 8      (E) 10